

## UČNA GRADIVA IN NALOGE ZA 3. RAZRED (23. 11. 2020–27. 11. 2020)

PONEDELJEK, 23. 11. 2020	
MAT	<p><b>NEZNANI ČLEN: IŠČEM ODŠTEVANEC IN ZMANJŠEVANEC</b></p> <p><b>Reši matematični izziv. Glej primer:</b>            Imaš števili 12 in 25. Sestavi dva računa. V prvem računu poišči zmanjševanec, v drugem pa odštevanec.  <math>\underline{\quad} - 12 = 25</math>      <math>25 - \underline{\quad} = 12</math></p> <p>V zvezek napiši naslov <b>Vaja</b>. Iz števil v kvadratih sestavi računa. Glej zgornji primer.</p> <div style="display: flex; justify-content: space-around; align-items: center;"> <div style="background-color: yellow; padding: 5px; border: 1px solid black; width: 40px; text-align: center;"><b>48</b></div> <div style="background-color: yellow; padding: 5px; border: 1px solid black; width: 40px; text-align: center;"><b>16</b></div> </div> <p>Izmisli si še svoj primer.</p> <p><b>V DZ reši naloge na strani 64.</b>            Pri 1. nalogi lahko preveriš rezultat tako, da sešteješ razliko in odštevanec.            Če si pravilno rešil/a 2. nalogo, imaš pobarvane štiri poljske pridelke.            Pri 3. nalogi izberi dve besedilni nalogi. Če želiš, lahko rešiš vse naloge.</p>
TJA	<p><b>PONAVLJAMO</b></p> <p>Ponovi, katere predmete imaš na urniku. Nauči se poklice in hobije.  <a href="https://ucilnice.arnes.si/course/view.php?id=17396">https://ucilnice.arnes.si/course/view.php?id=17396</a></p>
SLJ (2 uri)	<p><b>DEŽELI VEČNEGA LEDU</b></p> <p>Kaj si predstavljaš, ko slišiš naslov Deželi večnega ledu? Ali je v večnem ledu in mrazu možno živeti? Ali v taki deželi najdemo rastline? Ali tam živijo živali? Kaj jih varuje pred mrazom?</p> <p>Spoznal/a boš nekatere zanimivosti Arktike in Antarktike ter njihovih prebivalcev. Pred branjem si oglej preprost zemljevid sveta.</p> <p><b>ARKTIKA IN ANTARKTIKA, delovni zvezek, stran 77.</b></p>



Preberi besedilo vsaj dvakrat. Pri branju si zapomni čim več podatkov, ker jih boš uporabil/a v igri – RESNICA ALI IZMIŠLJOTINA.

Po končanem branju besedila v delovnem zvezku beri spodnje trditve, med katerimi so tudi nepravilne. Igraj igro RESNICA ALI IZMIŠLJOTINA. Če prebereš resnico, vstani. Če prebereš izmišljotino, počepni. Če se igraš sam/a, preveri pravilnost v delovnem zvezku, sicer ti preveri družinski član.

- Najhladnejši območji na Zemlji sta Antarktika na južnem tečaju in Arktika na severnem tečaju.
- Mraz je hujši na severnem tečaju kot na južnem.
- Takih rastlin in živali, kot živijo na severnem in na južnem tečaju, ne vidimo nikjer drugje na Zemlji.
- Največja težava za živali v mrazu in ledu je pomanjkanje vode.
- Živa bitja so se na mraz prilagodila na različne načine.
- Ker je rastlin veliko, so se živali naselile v morju.

V zvezek napiši naslov **ARKTIKA IN ANTARKTIKA**. Napiši vse povedi tako, da nepravilne povedi spremeniš v pravilne. Pazi na lepo pisavo in na velike začetnice.

<b>TOREK, 24. 11. 2020</b>	
<b>SLJ</b>	<p style="text-align: center;"><b>PINGVIN, delovni zvezek, stran 78</b></p> <p>Na kaj pomisliš, ko slišiš besedo pingvin?</p> <p>Dvakrat preberi besedilo. Odgovori na Binetovo vprašanje. Povej vsebino s svojimi besedami. Če še ne gre, preberi besedilo znova.</p> <p style="text-align: center;"><b>BELI MEDVED, delovni zvezek, stran 78</b></p> <p>Kaj že veš o belem medvedu?</p> <p>Dvakrat preberi besedilo. Odgovori na Binetovo vprašanje. Povej vsebino s svojimi besedami. Če je potrebno, preberi besedilo še enkrat.</p> <p>Kaj se ti je zdelo v besedilih Deželi večnega ledu najbolj zanimivo? Ali si zadovoljen/zadovoljna s svojim branjem? Kako bi ga lahko izboljšal/a?</p> <p>Vadi natančno branje besedil na straneh 77, 78.</p> <p><b>Pripravi vsaj tri povedi za igro RESNICA ALI IZMIŠLJOTINA (nekaj pravih in nekaj nepravilnih). Igral/a jo boš s sošolci preko videokonference. Za igro izdelaj še rdeč in zelen kartonček.</b></p> <p><b><i>DODATNA NALOGA</i></b></p> <p>Če želiš, poišči v knjigah, revijah in na spletnih straneh več podatkov o življenju pingvina in belega medveda.</p>
<b>SPO</b> <b>(2 uri)</b>	<p style="text-align: center;"><b>ŽIVLJENJSKO OKOLJE: REKA IN JEZERO</b></p> <p>Spoznal/a boš novi življenjski okolji, reko in jezero. Oglej si posnetka na spodnjih povezavah.</p> <p><a href="https://www.lilibi.si/mestni-trg/spoznavanje-okolja/jaz-in-narava/ziva-bitja-in-okolja/zivljenjska-okolja/reka">https://www.lilibi.si/mestni-trg/spoznavanje-okolja/jaz-in-narava/ziva-bitja-in-okolja/zivljenjska-okolja/reka</a></p> <p><a href="https://www.lilibi.si/mestni-trg/spoznavanje-okolja/jaz-in-narava/ziva-bitja-in-okolja/zivljenjska-okolja/jezero">https://www.lilibi.si/mestni-trg/spoznavanje-okolja/jaz-in-narava/ziva-bitja-in-okolja/zivljenjska-okolja/jezero</a></p> <p>V učbeniku na strani 35 dvakrat pozorno preberi besedilo in ga vpiši v bralni list.</p> <p><b>Ura po potekala tudi preko videokonference. Vabilo boš prejel/a po elektronski pošti.</b></p> <p><b><i>DODATNA NALOGA</i></b></p> <p>Na spodnji povezavi te čakajo zanimive naloge.</p> <p><a href="http://zivljenjskaokolja.splet.arnes.si/">http://zivljenjskaokolja.splet.arnes.si/</a></p>

<b>MAT</b>	<p align="center"><b>RAČUNAM DO 100</b></p> <p>Med hojo po sobi glasno poimenuj matematične izraze v računu seštevanja in odštevanja.</p> <p><b>Reši naloge v DZ na str. 65.</b></p> <p>Bodi pazljiv/a pri računanju 2. naloge. Kaj se zgodi, če napačno izračunaš samo en račun?</p> <p>Pozorno si oglej postopek reševanja 4. naloge, prva preglednica. Po zgledu nadaljuj in reši obe preglednici.</p> <div style="text-align: center;"> <table border="1" style="margin: auto;"> <tr> <td style="background-color: #f0e6ff;">+</td> <td style="background-color: #f0e6ff;">14</td> <td style="background-color: #f0e6ff;">37</td> <td style="background-color: #f0e6ff;">52</td> </tr> <tr> <td style="background-color: #f0e6ff;">37</td> <td style="background-color: #f0e6ff;">51</td> <td style="background-color: #f0e6ff;">74</td> <td style="background-color: #f0e6ff;">89</td> </tr> <tr> <td style="background-color: #f0e6ff;">29</td> <td style="background-color: #f0e6ff;">43</td> <td></td> <td></td> </tr> </table> </div>	+	14	37	52	37	51	74	89	29	43		
+	14	37	52										
37	51	74	89										
29	43												
<b>ŠPO</b>	<p align="center"><b>SPREHOD V NARAVI</b></p> <p>Pri spoznavanju okolja spoznavaš reko in jezero. Ko bo to mogoče, se s starši odpravi do bližnjega potoka, mlake, reke ali jezera. Opazuj rastline in živali na poti, ob vodi in v njej. Če do bližnje vode ne moreš, se odpravi do bližnjega gozda ali travnika. Uživaj v naravi in gibanju vsaj eno uro.</p>												

<b>SREDA, 25. 11. 2020</b>											
<b>MAT</b>	<p align="center"><b>RAČUNAM DO 100</b></p> <p>V zvezek napiši naslov <b>PONAVLJAMO</b>. Najprej prepisi račune. Računaš lahko tudi na daljši način.</p> <table style="width: 100%; border: none;"> <tr> <td style="width: 50%;">_____ - 18 = 18</td> <td style="width: 50%;">56 + _____ = 72</td> </tr> <tr> <td>37 + _____ = 53</td> <td>_____ - 27 = 54</td> </tr> <tr> <td>_____ + 24 = 81</td> <td>78 - _____ = 39</td> </tr> <tr> <td>91 - _____ = 47</td> <td>44 + _____ = 61</td> </tr> <tr> <td>55 + _____ = 100</td> <td>_____ + 14 = 33</td> </tr> </table> <p><b>V DZ na strani 66 reši 6. in 8. nalogo.</b></p> <p><b>DODATNA NALOGA</b></p> <p>DZ, 7. naloga.</p> <p>Postopek reševanja 7. naloge na strani 66 je enak kot pri Sudoku-ju.</p>	_____ - 18 = 18	56 + _____ = 72	37 + _____ = 53	_____ - 27 = 54	_____ + 24 = 81	78 - _____ = 39	91 - _____ = 47	44 + _____ = 61	55 + _____ = 100	_____ + 14 = 33
_____ - 18 = 18	56 + _____ = 72										
37 + _____ = 53	_____ - 27 = 54										
_____ + 24 = 81	78 - _____ = 39										
91 - _____ = 47	44 + _____ = 61										
55 + _____ = 100	_____ + 14 = 33										

TJA	<p><b>PONAVLJAMO</b></p> <p>Ponovi, katere predmete imaš na urniku. Nauči se poklice in hobije. Reši učni list. Video navodilo prejmejo starši na elektronski naslov.  <a href="https://ucilnice.arnes.si/course/view.php?id=17396">https://ucilnice.arnes.si/course/view.php?id=17396</a></p>	
<p>SLJ</p> <p>(2 uri)</p>	<p><b>Hans Christian Andersen: KRALJIČNA NA ZRNU GRAHA</b></p> <p><b>Pred branjem</b> v zvezek napiši avtorja in naslov pravljice. Napiši, kakšna mora biti po tvojem mnenju čisto prava kraljična. Napiši vsaj pet značilnosti.  Pravo kraljično je gotovo težko najti. In pred tem jo je treba dooolgo iskati. Kraljevič iz Andersenove pravljice Kraljična na zrnju graha jo je le s težavo našel.</p> <ul style="list-style-type: none"> <li>• <b>Berilo, stran 70, 71</b></li> </ul> <p>Prosi enega od staršev ali starejšo sestro, brata, naj ti prebere pravljico.</p> <p>Pred branjem si v slovarčku oglej razlago manj znanih besed:</p> <table border="1" data-bbox="264 779 1474 987"> <tr> <td> dognati – z razmišljanjem, raziskovanjem priti do spoznanja  žima – dolga dlaka iz konjskega repa  žimnica – blazina za ležanje, napolnjena z žimo  posteljnjak – posteljno ogrodje  pernica – s perjem napolnjena odeja </td> </tr> </table> <p>Preberi pravljico dvakrat.  Pripoveduj pravljico. Pomagaj si s spodnjimi točkami.</p> <ol style="list-style-type: none"> <li>1. Kraljevič išče kraljično</li> <li>2. Kraljična pride na grad</li> <li>3. Kraljica preverja, če je kraljična prava</li> <li>4. Naslednje jutro</li> <li>5. Grahovo zrno potem</li> </ol> <p>Nauči se pravljico pripovedovati s svojimi besedami. Pripoveduj jo dvema družinskima članoma. Pazi na knjižni jezik.</p>	dognati – z razmišljanjem, raziskovanjem priti do spoznanja žima – dolga dlaka iz konjskega repa žimnica – blazina za ležanje, napolnjena z žimo posteljnjak – posteljno ogrodje pernica – s perjem napolnjena odeja
dognati – z razmišljanjem, raziskovanjem priti do spoznanja žima – dolga dlaka iz konjskega repa žimnica – blazina za ležanje, napolnjena z žimo posteljnjak – posteljno ogrodje pernica – s perjem napolnjena odeja		
ŠPO	<p><b>PLES</b></p> <p>Polepšaj si dan s plesom. Pridruži se plesalcu na povezavi:  <a href="https://www.youtube.com/watch?v=ByR75vokUUs">https://www.youtube.com/watch?v=ByR75vokUUs</a></p> <p>Večkrat zapleši med odmori.</p>	

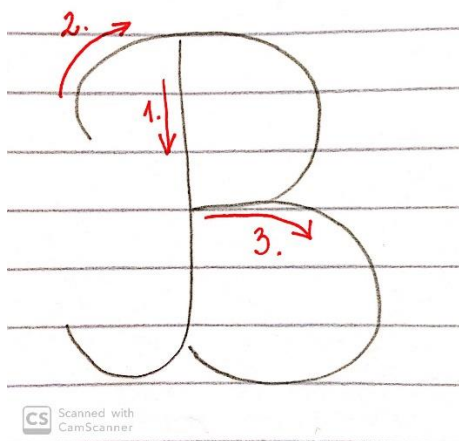
SLJ

**VELIKA PISANA ČRKA B**

Oglej si posnetek potez pravilnega zapisovanja velike pisane črke B na spodnji povezavi.

<https://www.lilibi.si/solska-ulica/slovenscina/dezela-abc/pisane-crke/b/kako-napisemo-to-crko>

S prstom zapisuj veliki pisani B po zraku. Prosi starejšega brata, sestro ali starše, da ti pomagajo pri zapisu velike pisane črke B v zvezek.



V zvezku ustvari mavrični B tako, da ga prevlečeš s petimi različnimi barvicami. Zapiši 4 vrstice svojih najlepših velikih pisanih črk B. V zvezek lepo in pravilno prepisi besede in povedi v okvirčku.

**PREPIS**

Barbara, Belak, Belgija, Lana, Tim, Hana, Klemen

Berto Bohinc na zemljevidu išče Bolgarijo.

Liam, Teja, Kalina in Henrik so poleti obiskali Blejsko jezero.

Kdo je že kdaj plaval v največjem naravnem jezeru v Sloveniji, v Bohinjskem jezeru?

Preveri pravilnost svojega zapisa. **Prosim, fotografiraj prepis in mi ga pošlji.**

**BEREMO**

Glasno beri besedila o brenkalih pri GUM. Branje označi v bralni list.

<b>MAT</b>	<p style="text-align: center;"><b>RAČUNAM DO 100</b></p> <p><b>Izmed spodnjih besedilnih nalog izberi tri.</b> V zvezek napiši naslov <b>Vaja</b>. Zapiši račun in ga izračunaj ter napiši odgovor. Besedilnih nalog ni potrebno prepisovati.</p> <p><b>a)</b> Prvi seštevanec je 44, drugi seštevanec je 28. <b>Izračunaj vsoto.</b></p> <p><b>b)</b> Odštevanec je 15, razlika pa 29. <b>Izračunaj zmanjševanec.</b></p> <p><b>c)</b> Mizar Bojan ima različno dolge palice. Najdaljše merijo 1 meter, srednje dolge merijo 1 decimeter, najkrajše pa 1 centimeter. Na tla je po dolžini položil drugo za drugo 10 srednje dolgih palic. <b>Koliko so merile vse palice skupaj?</b></p> <p><b>d)</b> Kdo je najmlajši član tvoje družine? Izmeri njegovo višino in jo zapiši v zvezek.</p> <p>V delovnem zvezku <b>na strani 67</b> izberi štiri besedilne naloge in jih reši.</p>
<b>GUM</b>	<p style="text-align: center;"><b>SPOZNAJMO BRENKALA</b></p> <p>Spoznal/a boš novo skupino glasbil – brenkala.</p> <p><b>Kitara</b></p> <p><a href="https://www.youtube.com/watch?v=i9-aFhcTWqQ">https://www.youtube.com/watch?v=i9-aFhcTWqQ</a></p> <p>Kitara ima votlo telo v obliki črke S. Je iz lesa, ima dolg vrat, na njem 6 strun, več prečk, vijake za uglaševanje in kobilico. Kitaro igramo s prsti obeh rok. Brenkamo s prsti ali s trzalico (ploščico). Igramo jo sede, s pokrčenim kolenom (v pop, rock glasbi jo igrajo tudi stoje, imajo jo privezано okrog vratu).</p> <p><b>Harfa</b></p> <p><a href="https://www.youtube.com/watch?v=WTe6t6eyUQ4">https://www.youtube.com/watch?v=WTe6t6eyUQ4</a></p> <p>Harfa je instrument, ki je star več tisočletij. Harfa ima velik trikoten lesen okvir s 47 strunami. Ima nežen zvok. Nekatere strune so obarvane, da jih harfist lažje in hitreje najde. Strune so napete od vrha do tal. Na dnu ima pedala. Harfist igra nanjo sede. Strune ubira z obema rokama.</p> <p><b>Citre</b></p> <p><a href="https://www.youtube.com/watch?v=JBaqMvGHgaY">https://www.youtube.com/watch?v=JBaqMvGHgaY</a></p> <p>Citre so ljudski instrument, pogosto uporabljen na Slovenskem. Citre imajo več strun kot kitara. Položimo jih na mizo, nanje igramo s prsti ali kovinskimi obročki, ki jih natakemo na prste. Strune so napete po nizki leseni skrinjici različnih oblik</p>

		
KITARA	HARFA	CITRE
		
TAMBURICA	LIRA	UKULELE

**LUM**

**KIPARSTVO: PREGIBANJE OBLIK IZ TRŠIH PAPIRNIH GRADIV – BRENKALO**

Takole je s pregibanjem papirja ustvaril kitaro slavni umetnik Pablo Picasso.



Tako kot umetnik boš tudi ti izdelal/a brenkalo. Uporabi različna papirna gradiva: lepenke, valovite kartone, trše papirje. Uporabi materiale, ki jih najdeš doma. Dele boš po potrebi pregibal/a ter na ta način dosegel/dosegla, da bodo oblike razčlenjene ter da bo kip stabilen. Dodaš lahko vrvice, gumice, volno in še kaj.



SPO

**PARK**

Si že bil/a kdaj v parku? Kaj te je pritegnilo?

Oglej si krajšo predstavitev parka na spodnji povezavi.

<https://www.lilibi.si/mestni-trg/spoznavanje-okolja/jaz-in-narava/ziva-bitja-in-okolja/zivljenjska-okolja/park>

Preberi besedilo v učbeniku na strani 34.

**Ustno odgovori na spodnja vprašanja.**

1. Kakšno življenjsko okolje je park? Zakaj?
2. Čemu je namenjen park?
3. Katere rastline rastejo v parku?
4. Katere živali živijo v njem?
5. Kaj je živa meja?

Svoje znanje boš utrdil/a še s pomočjo PowerPointa, ki ga boš prejel/a po elektronski pošti. Prejel/a boš tudi navodilo za zapis miselnega vzorca v zvezek.

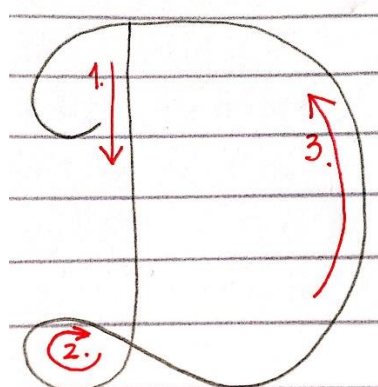
SLJ

**VELIKA PISANA ČRKA D**

Oglej si posnetek potez pravilnega zapisovanja velike pisane črke D na spodnji povezavi.


<https://www.lilibi.si/solska-ulica/slovenscina/dezela-abc/pisane-crke/d/kako-napisemo-to-crko>

S prstom zapisuj veliki pisani D po hrbtu družinskega člana ali po tleh. Prosi starejšega brata, sestro ali starše, da ti pomagajo pri zapisu prve velike pisane črke D v zvezek.



CS Scanned with CamScanner

V zvezku ustvari mavrični D tako, da ga prevlečeš s petimi različnimi barvicami. Zapiši 4 vrstice svojih najlepših velikih pisanih črk D. Izmisli si in napiši 5 besed in tri povedi z D.

	<p><b>BEREMO</b></p> <p>Glasno beri besedila o brenkalih pri GUM. Branje označi v bralni list.</p>
<b>ŠPO</b>	<p><b>SPREHOD V NARAVI</b></p> <p>Pri spoznavanju okolja spoznavaš park. Ko bo to mogoče, se s starši odpravi v bližnji park. Opazuj rastline in živali, poišči fontano, sprehodi se po drevoredu. Najdeš kakšno živo mejo? Če do bližnjega parka ne moreš, se odpravi do bližnjega gozda ali travnika. Uživaj v naravi in gibanju.</p>
<b>MAT</b>	<p><b>ŠTEVILA DO 100</b></p> <p>Reši naloge v delovnem zvezku, na strani 68.</p>
<b>GUM</b>	<p><b>SPOZNAJMO BRENKALA</b></p> <p>Katera brenkala si že spoznal/a? Danes boš spoznal/a še tri.</p> <p><b>Tamburica</b></p> <p><a href="https://sites.google.com/site/kudjkr/tambura%C5%A1kaskupinabisernica">https://sites.google.com/site/kudjkr/tambura%C5%A1kaskupinabisernica</a></p> <p>Tamburica je manjši instrument kot kitara. Instrumentalist, ki igra nanjo, je tamburaš. Običajno jo slišimo v tamburaških ansamblih širom Slovenije, predvsem v Beli krajini. Tamburica je okrogle oblike, ima prečke kot kitara, strune pa so v parih. Nanjo igrajo s trzalico tako, da hitro trzajo naprej in nazaj po dveh enakih strunah.</p> <p><b>Lira</b></p> <p><a href="https://youtu.be/MD6uXXZwfi8">https://youtu.be/MD6uXXZwfi8</a></p> <p>Je najstarejše strunsko glasbilo starih Grkov. Ima 4 do 7 strun, nanjo so igrali s prsti ali s kovinskim naprstnikom. Držimo jo za okvir, pritisnemo jo ob levo ramo, z desno roko ubiramo strune in brenkamo. Lira je simbol pesništva in glasbe.</p> <p><b>Ukulele</b></p> <p><a href="https://www.youtube.com/watch?v=ol1LJPnsqE">https://www.youtube.com/watch?v=ol1LJPnsqE</a></p> <p>Glasbilo spominja na kitaro, je manjše in ima štiri strune. Ton in glasnost sta odvisna od velikosti in zgradbe.</p> <p>V zvezek bobenček napiši naslov BRENKALA. Preriši preglednico brenkal, ki jo najdeš v nalogah za četrtek.</p> <p>Poučno in zabavno delo ti želim.</p> <p></p> <p style="text-align: right;">Tvoja učiteljica</p>

